

پیک
نوروزی

آدینه‌ها با گراد

۳

پایه سوم دبستان

- بودجه بندی محتوایی (سالانه)
- بودجه بندی هفتگی و ماهانه
- جدول ارزشیابی پایانی
- سرگرمی

خلاصه ای از تمام فصل های کتاب

آدینه‌ها با گراد

مهر ماه

شماره ۱

پایه سوم



این هفته با طعم انار

قرآن : مرور تا صفحه‌ی ۲ درس اول

هدیه های آسمان : مرور

فارسی : مرور تا صفحه‌ی ۱۰

ریاضی : مرور سال قبل

علوم : مرور سال قبل

مطالعات اجتماعی : مرور سال قبل

نام و نام خانوادگی :

دبستان :

کلاس :



[انتشارات گراد]

قرآن

۱ پیام های قرآنی را به معنای آن وصل کنید.



* قرآن سخن خدا برای مردم است.

* با خواندن نماز، به یاد خدا باش.

* پس از هر سختی، آسانی است.

إِنَّ مَعَ الْعُسْرِ يُسْرًا *

هَذَا بَيِّنٌ لِّلنَّاسِ *

وَأَقِمِ الصَّلَاةَ لِذِكْرِي *



۲ معماهای قرآنی را پاسخ دهید.






- پرندگان که به امر خداوند با لشکر ابرهه جنگیدند چه نام داشتند؟

- بزرگ ترین بت شکن تاریخ چه کسی بود؟

- دو سوره که به نام حیوانات است را بنویسید.

۳ از بین کلمات زیر، هر کلمه و معنای آن را یک رنگ بزنید.



۴ نام ۴ نوع میوه که در قرآن آمده است را بنویسید.

خیلی خوب خوب قابل قبول نیاز به تلاش بیشتر





هدیه های آسمان



۱ حضرت فاطمه (س)، همیشه اوّل برای دیگران و سپس برای خود دعا می کردند. می دانید چرا؟

۲ با دیدن نام هر یک از اهل بیت پیامبر (ص) به یاد کدام کار خوب آن ها می افتید؟



امام حسین (ع)

امام حسن (ع)

حضرت فاطمه (س)

امام علی (ع)

۳ نام پیامبران بزرگ خدا را بنویسید.

۴ مسلمانان هر روز، در تشهّد نماز خود به چه کسانی درود می فرستند؟

۵ احسان و رضا در مورد فایده های سلام با هم دیگر صحبت می کردند. به نظر شما آن ها به چه نکاتی اشاره می کنند؟ (۲ مورد)



۶ در محله ی امید و میلاد، در نیمه ی شعبان جشن بر پا شده بود و همسایگان تمام کوچه را چراغانی کرده بودند. بچه ها از پدرشان پرسیدند: «پدرجان این جشن به چه مناسبتی است؟» پدر پاسخ داد: «

خیلی خوب خوب قابل قبول نیاز به تلاش بیشتر



[انتشارات گراد]

فارسی



۱ دو جمله به دل خواه بنویسید که علامت «!» داشته باشد.

۲ کلمه های زیر را بخوانید و مخالف آن ها را بنویسید.

بزرگ ≠ [] زشت ≠ [] دور ≠ [] شب ≠ []

۳ برگ های آن درخت را با مداد سبز و برگ های این درخت را با مداد نارنجی رنگ کنید.



۴ هر دو کلمه را در یک جمله به کار ببرید.

دعا، یاری:

آغاز، مهر:

۵ کلمه های زیر را با «ان» جمع بندید و بنویسید.

	زنده + ان :		دوست + ان :
	گرسنه + ان :		درخت + ان :

۶ هر جمله را با یکی از کلمات مناسب داخل کمانک کامل کنید.

کلمه ی با «ان» جمع بسته نشده است. (دختران، ایمان)

عمو نوروز، وقتی به بالای تپه رسید می زد. (نفس نفس، تاپ تاپ)





پایه ی سوم

۷) جمله های زیر را به دل خواه ادامه بدهید.

یک سنجاقک قشنگ

ابر کوچولو


میکروب ها

خیلی خوب خوب قابل قبول نیاز به تلاش بیشتر

ریاضی

۱) در جاهای خالی عدد مناسب بنویسید.

$$\square - 30 = 50$$



$$15 + \square = 30$$

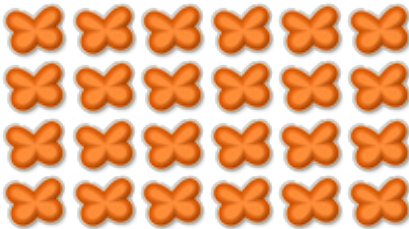
$$354 + \square = 360$$

$$\square - 124 = 24$$

۲) عمو پورنگ ساعت ۴ بعد از ظهر برنامه اش را شروع می کند. اگر برنامه ی او یک ساعت و ربع طول بکشد زمان پایان برنامه ی عمو پورنگ چه ساعتی است؟



۳) شکل های زیر را به دو صورت دسته بندی کنید و جاهای خالی را کامل کنید.



..... دسته تایی می شود

..... دسته تایی می شود

..... دسته تایی می شود

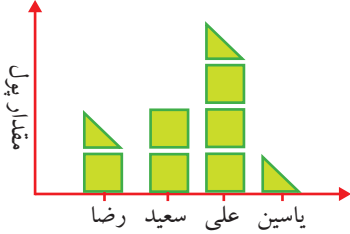
..... دسته تایی می شود



[انتشارات گراد]



۴ اگر به ازای هر ۱۰ ریال یک در نظر بگیریم با توجه به نمودار زیر به سؤالات پاسخ دهید.



- پول رضا و علی روی هم چند ریال است؟

- چه کسی بیشترین پول را دارد؟

- مجموع پول های این ۴ نفر روی هم چند ریال است؟

۵ حاصل جمع و تفریق های زیر را با حذف رقم یکان و دهگان به دست بیاورید.



$$\begin{array}{r} 428 \\ + 325 \\ \hline \end{array}$$

$$\begin{array}{r} 879 \\ - 639 \\ \hline \end{array}$$



۶ با رقم های ۵، ۶، ۹ کوچکترین عدد زوج ۳ رقمی و بزرگترین عدد فرد ۳ رقمی را بنویسید.

۷ در جاهای خالی علامت $< = >$ بگذارید.

$$300 + 20 + 5 \quad \text{○} \quad 325$$

۵ سانتی متر و ۲ میلی متر ۴ سانتی متر و ۷ میلی متر

$$40 + 80 \quad \text{○} \quad 90 - 30$$

۱۸ میلی متر ۱ سانتی متر و ۵ میلی متر

۸ پاسخ سؤالات زیر را روی ساعت ها نشان دهید.



الف) ۴۰ دقیقه بعد از ساعت ۱۱:۰۰ چه ساعتی است؟



ب) ۱۵ دقیقه بعد از ساعت ۲:۲۵ چه ساعتی است؟



ج) ۲۵ دقیقه بعد از ساعت ۹:۱۰ چه ساعتی است؟

خیلی خوب خوب قابل قبول نیاز به تلاش بیشتر



۱ پاسخ درست را علامت بزنید.

- در کشور ما اصلی ترین ماده ی غذایی چیست؟

الف) شیر ب) نان ج) برنج د) گوشت

- برای خمیر کردن آرد به چه ماده ای نیاز است؟

الف) آرد ب) آب ج) مخلوط کن د) آسیاب

۲ درست یا نادرست بودن هر جمله را مشخص کنید.

- خوردن انواع لبنیات برای رشد بدن لازم است.



- باد، خاک مرطوب را کمتر جا به جا می کند.



- وقتی نور از سمت چپ می تابد، سایه در همان سمت تشکیل می شود.



۳ چهار ماده ی جامد و دو ماده ی مایع بنویسید.



۴ مردم، در قدیم برای آرد کردن گندم از چه وسیله هایی استفاده می کردند؟

۵ با توجه به نوع تابش خورشید، در کدام تصویر،

محل تابش گرم تر می شود؟



۶ دو جانور به دل خواه نام ببرید و سپس بنویسید که به چه روش هایی از بچه های خود نگه داری می کنند؟

خیلی خوب خوب قابل قبول نیاز به تلاش بیشتر

۶ مهر روز خانواده مبارک باد.



به نظر شما کدام خانواده خوشبخت تر است؟ چرا؟



۷ مهر روز آتش نشانان گرم باد.

تلاش بیشتر
قابل قبول
خوب
خیلی خوب

ارزیابی

شاخص



- ۱- مهارت برنامه ریزی و زمان
- ۲- توانایی درک و فهم مطالب
- ۳- داشتن استقلال و عدم وابستگی در خواندن و حل تمرینات
- ۴- داشتن علاقه، انگیزه و دقت کافی
- ۵- رعایت اصول زیبا نویسی و تمیزی در نوشتن مطالب
- ۶- علاقه به انجام فعالیت های مرتبط با سرگرمی و ...

ارزیابی والدین:



آدینه‌ها با گراد

مهر ماه

۲

شماره‌ی

پایه سوم



این هفته با طعم تمشک

قرآن : صفحه‌ی ۲ الی ۵ جلسه‌ی اول اذان و اقامه

هدیه های آسمان : صفحه‌ی ۲ الی ۷ درس ۱ آستین های خالی

فارسی : صفحه‌ی ۱۰ الی ۱۸ ستایش درس ۱ محله‌ی ما

ریاضی : صفحه‌ی ۷ الی ۱۴ فصل ۱ الگوها الگویابی تا آخر ماشین های ورودی و خروجی

علوم : صفحه‌ی ۹ الی ۱۲ درس ۱ زنگ علوم

مطالعات اجتماعی : صفحه‌ی ۱ الی ۶ درس ۱ و ۲ من به دنیا آمده‌ام. من بزرگ‌تر شده‌ام

نام و نام خانوادگی :

دبستان :

کلاس :



[انتشارات گراد]

قرآن

۱) این سخن از کدام امام معصوم (ع) است؟

من نماز و خواندن کتاب خدا را دوست دارم.

- الف) امام حسین (ع) ب) امام علی (ع)
 ج) امام سجّاد (ع) د) امام جعفر صادق (ع)

۲) ستون دین چیست؟

- الف) اذان ب) نماز ج) روزه د) وضو

۳) درست و نادرست جملات زیر را مشخص کنید.

- الف) اذان و اقامه با هم تفاوتی ندارند.
 ب) در اذان و اقامه الله اکبر ۴ مرتبه خوانده می شود.
 ج) اذان ذکر قدقامت الصلاة ندارد.
 د) در اذان و اقامه ذکر لا اله الا الله ۲ مرتبه خوانده می شود.



- خیلی خوب خوب قابل قبول نیاز به تلاش بیشتر

هدیه های آسمان

۱) فرد ناشنوایی می خواهد از خیابان عبور کند، او با چه مشکلاتی مواجه می شود؟

.....

۲) یک کار بگویید که می توانید بدون خم کردن انگشتان دست، آن را انجام دهید؟



.....



۳ پس از خواندن داستان زیر به سؤال مطرح شده پاسخ دهید.

پسر از مادرش پرسید: «مهم ترین عضو بدن چیست؟». مادر پاسخ داد: «خودت باید پیدا کنی.»

روزها گذشت. یک روز پسر در زمان برگشت از مدرسه متوجه گریه ی مادرش شد. پدر بزرگ فوت کرده بود و تمام مسیر رفتن به شهر پدر بزرگ، مادر گریه کرد. در میان راه، پسر، سر مادر را روی شانه اش گذاشت و با آرامش سر و صورت مادر را نوازش کرد..... و مراسم تمام شد.

مادر با قدرشناسی به فرزند گفت: «فهمیدی مهم ترین عضو بدن کجاست؟ شانه، شانه های مهربان تو. چون نهایت همدردی را با من انجام دادند.»

- به نظر شما مهم ترین عضو بدن کدام عضو است؟ چرا؟

.....

.....

۴ به نظر شما چرا خداوند در طبیعت، جنگل را قرار داده است؟

.....

.....

خیلی خوب خوب قابل قبول نیاز به تلاش بیشتر

فارسی

۱ شعر خداوند رنگین کمان از کیست؟

- الف) اسدا... شعبانی ب) مجید ملا محمدی
- ج) محمود پور وهاب د) عباس یمنی شریف





[انتشارات گراد]



۲ چهار کلمه از جملات زیر، به صورت درهم ریخته در جدول پایین قرار دارد آن ها را پیدا کنید

و بنویسید. (می توانید ابتدا با مداد رنگی، آن ها را مشخص کنید).

- در یک سوی میدان، مسجد بزرگی دیده می شد.

- بوستان، فضای بسیار زیبایی داشت.

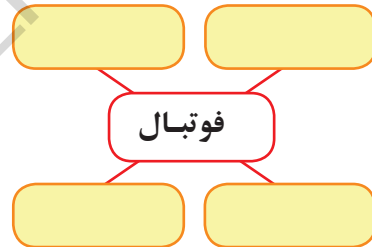
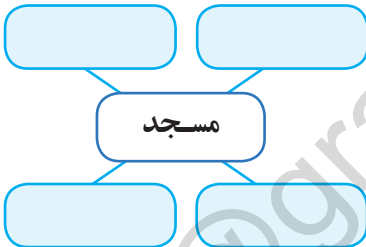
- بازارچه تعداد زیادی مغازه و دکان کوچک و بزرگ داشت.



س	ن	ا	د	ی	م
و	خ	ه	ک	ر	ف
ی	ل	ق	ا	ج	ض
ش	ز	چ	ن	ی	ا

.....
.....

۳ نمودارهای زیر را کامل کنید.



۴ جمله های سمت راست را بخوانید. اگر درست نیستند، شکل صحیح آن ها را، سمت چپ بنویسید.

..... پروانه، روی گل ها نشستند و از شهد آن ها خوردند.

..... درخت، در سالم سازی محیط زندگی ما، نقش مهمی دارند.

..... نماز گزاران در مسجد، نماز ظهر را خواندند.

..... رضا از امکان مدرسه، به درستی استفاده می کند.

خیلی خوب خوب قابل قبول نیاز به تلاش بیشتر

۱) یک مدرسه ۵ کلاس دارد. هر کلاس ۲ پنجره دارد و هر پنجره ۳ شیشه دارد.

الف) ۲ کلاس چند پنجره دارد؟

ب) ۴ کلاس چند شیشه دارد؟

(با استفاده از جدول نظام دار)

۲) یک فروشنده یک جفت جوراب را ۳۰۰ تومان می خرد و ۳۵۰ تومان می فروشد.

الف) او با فروش ۵ جفت جوراب چند تومان سود می کند؟

ب) او باید چند جفت جوراب بفروشد تا بتواند یک جفت دستکش ۴۰۰ تومانی برای خودش بخرد.

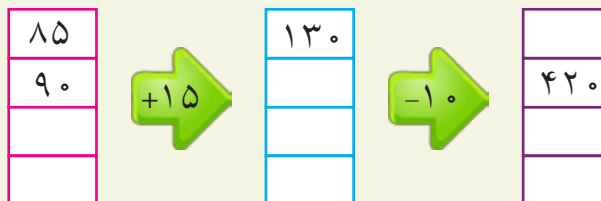


۳) الگوهای عددی را ادامه دهید.

۸۶۰ - ۸۷۰ - ۸۸۰ - - - -

۲۷۰ - ۲۷۱ - ۲۷۳ - ۲۷۴ - ۲۷۶ - - - -

۴) در جای خالی عدد مناسب بنویسید.

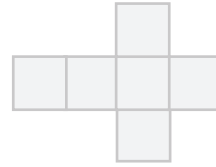

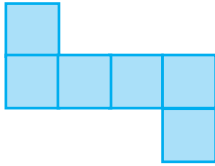




[انتشارات گراد]



۵ در شکل زیر، ۳ نمونه از باز شده ی مکعب رسم شده است. نقاطی که باید تا شود را با مداد قرمز پررنگ کنید.



خیلی خوب خوب قابل قبول نیاز به تلاش بیشتر

علوم

۱ مریم از دوستش می خواهد لیست خوراکی هایی را که دوست دارد بنویسد. این کار چه فعالیتی را نشان می دهد؟

- الف) جمع آوری اطلاعات
- ب) پرسیدن
- ج) مرتب کردن اطلاعات
- د) نتیجه گیری

۲ اگر در مورد خوراکی های مفید سوالی داشته باشیم بهتر است از چه کسانی پرسیم؟

.....
.....

۳ بعد از پرسیدن، باید درباره ی آن پرسش جمع آوری کنیم.

۴ اولین مرحله ی کار دانشمندان چیست؟

- الف) جمع آوری اطلاعات
- ب) پرسش
- ج) مشاهده
- د) نتیجه گیری



۵ بعد از جمع آوری اطلاعات بهتر است آن ها را

خیلی خوب خوب قابل قبول نیاز به تلاش بیشتر

۱ با توجه به شناسنامه ی خود، جاهای خالی را کامل کنید.

نام : نام خانوادگی : نام پدر :
 نام مادر : محلّ تولد : تاریخ صدور :
 شماره شناسنامه : محلّ صدور :



۲ معنی نام افراد خانواده ی خود را بنویسید.

.....

۳ نیما می خواهد در کلاس اوّل ثبت نام کند، چه مدارکی نیاز دارد؟



.....

۴ جدول را کامل کنید.

کارهایی که در ۸ سالگی
انجام می دادم

کارهایی که در ۵ سالگی
انجام می دادم

کارهایی که در ۲ سالگی
انجام می دادم

.....

.....

.....



خیلی خوب خوب قابل قبول نیاز به تلاش بیشتر

۱۰ مهر روز جهانی سالمند گرامی باد.

بزرگ ترها، تکیه گاه محکم تجربه و مهر هستند. «عزیزشان داریم..»



تلاش بیشتر
قابل قبول
خوب
خیلی خوب

<input type="radio"/>	<input type="radio"/>	<input type="radio"/>	<input type="radio"/>
<input type="radio"/>	<input type="radio"/>	<input type="radio"/>	<input type="radio"/>
<input type="radio"/>	<input type="radio"/>	<input type="radio"/>	<input type="radio"/>
<input type="radio"/>	<input type="radio"/>	<input type="radio"/>	<input type="radio"/>
<input type="radio"/>	<input type="radio"/>	<input type="radio"/>	<input type="radio"/>
<input type="radio"/>	<input type="radio"/>	<input type="radio"/>	<input type="radio"/>

ارزیابی

شاخص

- ۱- مهارت برنامه ریزی و زمان
- ۲- توانایی درک و فهم مطالب
- ۳- داشتن استقلال و عدم وابستگی در خواندن و حل تمرینات
- ۴- داشتن علاقه، انگیزه و دقت کافی
- ۵- رعایت اصول زیبا نویسی و تمیزی در نوشتن مطالب
- ۶- علاقه به انجام فعالیت های مرتبط با سرگرمی و ...

ارزیابی والدین:

